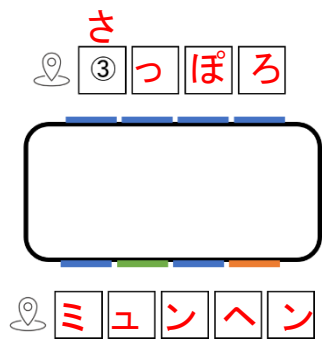
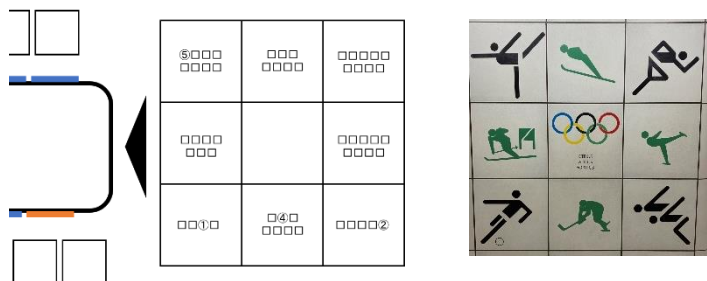


# 【ウォーキング】 A東豊線さっぽろ駅 解答



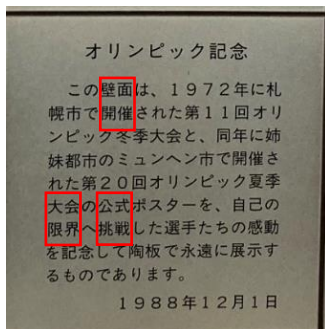
(1) 左側の図は、Aの駅に飾られている過去のオリンピックポスターの掲出位置を示しています。設問内の四角の左隣にはマップのピンのマークがあるので、ポスターのデザインとなっている1972年に開催されたオリンピックの開催地である札幌・ミュンヘンを四角にあてはめます。



(2) 右側の9マス目の図は、矢印が指している場所にかかれている競技を表すピクトグラムを示しています。それぞれの競技名を四角にあてはめます。

たいそうきょうぎ・すきーじゃんぷ・りくじょうきょうぎ  
あるぺんすきー・(五輪マーク)・ふいぎゅあすけーと  
サッカー・あいすほっけー・きょうえい

(3) (1)、(2)から①②③④=かいさい (開催)、⑤④①②=たいかい (大会) となることがわかります。



ピクトグラムとは反対側の壁面に書かれた文章に着目すると、文字の並び方が

壁面  
開催

大会  
限界

と同じになっている箇所を見つけることができます。

これにより、

○○○○  
挑戦

の丸にあてはまる言葉は「こうしき (公式)」となります。



# 【ウォーキング】 B豊平公園駅 解答

- 問題内の「ガンバレ！北極星の戦士よ」について  
「ガンバレ」は、「レバンガ北海道」の名前の由来、  
「北極星」・「戦士」については、「エスポラーダ北海道」の名前の由来となっております。  
駅構内の装飾物を確認すると、上記2チームの選手がデザインされた看板があります。
- 設問の数字は背番号を表しており、数字の色は各チームのカラーを表しております。

7 = 7

1 = 9

0 = 1



キップを購入しなくていい「SAPICA」が便利です

帰りのキップを買ってからきたえるへ

歩きスマホは危険です

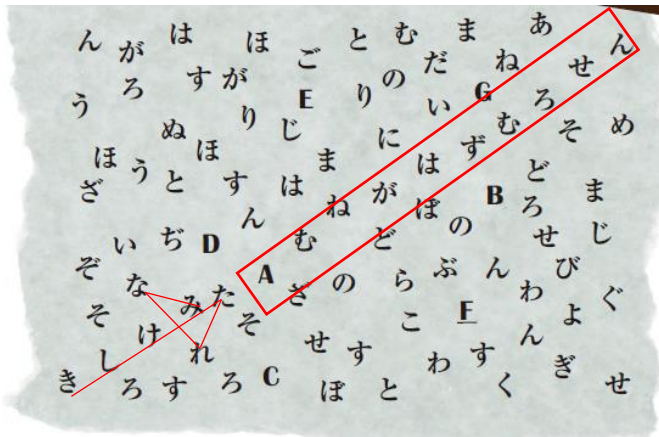
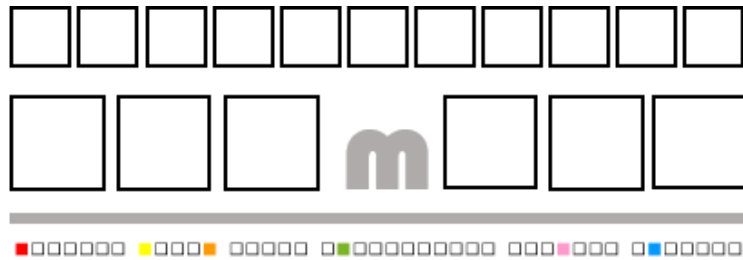
それぞれイコールで結ばれている看板は、看板下部のメッセージが共通しております。  
設問は“「？」は何”となっており、上記看板のメッセージにおいて鍵括弧が使われている言葉を探すと「SAPICA」であることがわかります。  
よって、この問題の解答は「さびか (SAPICA)」になります。

# 【ウォーキング】Cバスセンター前駅 解答

★この問題のヒントが駅構内に掲出されておりました。（次のページに公開しております。）

- (1) 設問と同じデザインのを500m美術館の大通駅側の端で発見することができます。ここから、設問内の色のついた四角に当てはまる文字は以下のとおりになります。

赤=S、黄=O（オー）、橙=I、黄緑=N、ピンク=K、青=A



- (2) (1)で導き出した英語を駅構内に掲出されていたヒントにあてはめると「SONOSAKI（その先）に答えはある」となります。  
 なお、同じフレーズがスタンプ台紙内にも載っており、この言葉の直前に書かれている「見慣れた景色」を左の図の中で順番に線で結んでみると矢印の形になります。  
 その先に（=矢印の先に）に書いてある言葉を読むと「Aむねがはずむろせん」になります。
- (3) 「Aむねがはずむろせん」については、スタンプ台紙内の「地下鉄新聞」の記事「一日一駅員」を読むと答えがわかるようになっております。  
 記事の中で、Aさんが好きな路線は南北線であることが判明することから、Aさんの「胸が弾む路線」は南北線であり、この問題の答えは「なんぼくせん（南北線）」となります。



# 【ウォーキング】Cバスセンター前駅 解答

Question **C**

 に答えはある。

地下鉄謎解きスタンプラリー2023

ウォーキングコース



# 【ウォーキング】D円山公園駅 解答

★この問題のヒントが駅構内に掲出されておりました。(次のページに公開しております。)



が指し示す駅



が指し示す駅

(1) 駅構内に掲出されているヒントをよく見ると、動物が2匹ずつ線でつながっています。これをもとにマス目に配置された動物たちを結んでいくと、「正」と「下」という2つの漢字が浮かび上がります。

なお、ここでの「正」は、「絵柄が反転していない動物（駅の床面タイルと同じもの）」を表します。

これにより、「正しい絵柄の動物の下」にある漢字を解読すれば良いという解釈になります。



が指し示す駅

(2) (1)をもとに、問題の図を見ると「全」「部」「逆」という3文字が判明します。

(3) (2)で判明した「全部逆」と、(1)で導いた「正しい絵柄の動物の下」を総合的に考えると、「正しくない絵柄の動物の上」つまり「絵柄が反転している動物の上」にある文字を解読すれば良いこととなります。



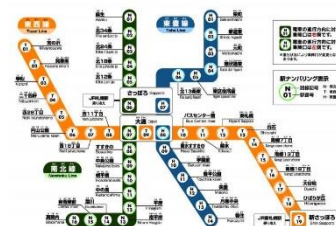
が指し示す駅

(4) 設問の中で「絵柄が反転している動物の上」を再度見てみると7つの漢字が浮かびあがります。

これらを上から順に読むと「端終電発時刻針先」となります。

なお、札幌市営地下鉄の各線の端の駅の最終電車発車時刻は0:00です。

## ▼スタンプ台紙に掲載されている地下鉄路線図と謎の時計



(5) スタンプ台紙の路線図周辺を確認すると、(4)より導いた各線の端の駅の最終電車の発車時刻である0:00を指す時計が印刷されていることを確認することができます。

この時計の針先は、「自衛隊前駅」を指していることから、この問題の解答は「**じえいたいまええき** (自衛隊前駅)」となります。



# 【ウォーキング】 D円山公園駅 解答

## Question **D**



動物の



を読め

地下鉄謎解きスタンプラリー2023

ウォーキングコース



# 【ウォーキング】 E北34条駅 解答

$$\begin{array}{r}
 6810 \quad 901 \quad 310 \quad 600 \\
 810 \quad 7501 \quad 3210 \quad 900
 \end{array}
 =
 \begin{array}{cccc}
 \square & \square & \square & \square \\
 \square & \square & \square & \square
 \end{array}$$

地下鉄〇〇線

$$\begin{array}{r}
 \text{六千八百} + \text{九百} - \text{三百} + \text{六百} = 8000 \\
 \text{八百} + \text{七千五百} - \text{三千二百} + \text{九百} = 6000
 \end{array}$$

- (1) 設問の数字を漢数字に変換します。  
 このとき、十（じゅう）と一（いち）を漢数字ではなく、十（プラス）と一（マイナス）として考えましょう。  
 その式を解くと、8000と6000という答えが導かれます。



- (2) (1)で判明した2つの数字を駅構内に設置されているパネルから探すと、東西線6000形・東西線8000形がデザインされたパネルがあります。これにより、〇〇線は「東西線」となります。

答えは東西の間にある

答えは〇〇の□にある

山  
間者  
近

- (3) 「答えは〇〇の□にある」の四角は、よく見てみるとスタンプ台紙に印刷されている「地下鉄新聞」の頭の体操コーナーにも同じデザインの四角があります。ここから四角に当てはまる文字を解くと、「間」になります。



- (4) (3)で導いた「答えは東西の間にある」をもとに、D円山公園駅の設問を確認すると「東」と「西」の間に「美園」という駅名を発見することができます。よって、答えは「みその(美園)」となります。

# 【ウォーキング】特別ポイント 解答

★この問題のヒントがロープウェイ山麓駅に掲出されておりました。（次のページに公開しております。）

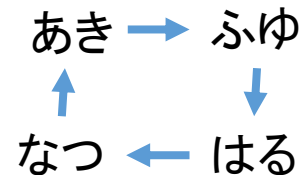
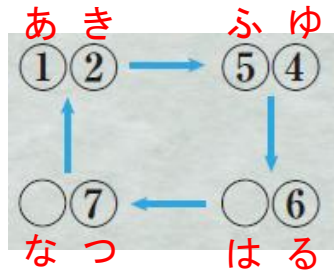
山=ロープウェイ  
君=夢

スタンプ台紙の「山=ロープウェイ」「君=夢」と、藻岩山ロープウェイ駅にある掲示物より、これが「山のロープウェイ」という曲の歌詞であり、「の」が「=」に置き換わっていることがわかります。

本棚 = ① ○ ○ ○  
蝉時雨 = ② ③ ○

本棚 = あるばむ  
蝉時雨 = きせつ

駅にある歌詞を参考に左図を埋めると、以下のようになります。



続いてスタンプ台紙に記載の左図については、上記より「①②=あき」となり、そこからこの図が春夏秋冬を表していることが予測できます。よって以下のようになります。

よって答えは④②⑤⑥②③⑦ = 「ゆきふるきせつ」となります。



# 【ウォーキング】 特別ポイント 解答

Special Point!  
特別ポイント

本棚 = ① ○ ○ ○

蝉時雨 = ② ③ ○

答えは ④ ② ⑤ ⑥ ② ③ ⑦

地下鉄謎解きスタンプラリー-2023

ウォーキングコース



# ウォーキングコース最終問題 解答

## LAST QUESTION

H11 ①	T06 ③	T10 ①	T10 ②	T06 ④	T10 ②	N02 ③	T06 ②	H07 ④
----------	----------	----------	----------	----------	----------	----------	----------	----------

※各問題の解答はすべてひらがなに直して入力せよ。

★上段の「H11」などは地下鉄の駅ナンバリング表示を示しております。

ここでA～Eの各駅の謎の回答を改めて確認します。

- A 東豊線さっぽろ駅 (H07) = こうしき
- B 豊平公園駅 (H11) = さぴか
- C バスセンター前駅 (T10) = なんぼくせん
- D 円山公園駅 (T06) = じえいたいまええき
- E 北34条駅 (N02) = みその

★下段の丸で囲まれている数字は、各駅ヒントの頭文字から何文字目であることを示しております。

上記法則をもとに文字を埋めると「さいなんたんのえき（最南端の駅）」というヒントが出てきます。

これにより、最終目的駅は「真駒内駅」となっておりました。