


☆つぎのアレイ図を見てかけ算の式を作りましょう。また、アレイの数も答えましょう。


①



しき

こたえ

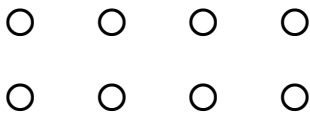
②



しき

こたえ


③



しき

こたえ


④



しき

こたえ

⑤



しき

こたえ