






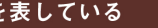










初級編 第3問 解説

問題にある葉っぱと同じマークがゲームシートの「きよたスイーツ城城内マップ」にもあるので、各問題を解いて葉っぱのマーク部分に当てはまる言葉を導き出します。

▼ゲームシート「きよたスイーツ城城内マップ」部分

- ◆昭和63年に完成した長さ58.9mの歩道橋「1
- ◆清田区在住のデザイナーmonmecciの協力のもと、清田区の小学生が中心となってデザインした「2
- ◆平成16年、三里塚小学校の開校100年を記念して「3
- ◆清田区のシンボルマークのオレンジ色の部分は「4
- ◆平成15年から毎年、4月中旬から5月上旬にかけてあしりべつ川に「5
- ◆例年、ウメの開花時期に合わせて平岡公園で開催される「6
- ◆有明地区にある「7
- ◆清田区で栽培されている札幌伝統野菜の一つで、「8

壁に書かれた暗号

それぞれの答えは上から順に

- ◆きたのふれあいばし
 - ◆きよたてきすたいる
 - ◆さんりづか
 - ◆ふといみき
 - ◆こいのぼり
 - ◆うめまつり
 - ◆ありあけのたきしぜんたんしょうのもり
 - ◆さっぽろたいきゅう
- となります。



葉っぱの①～⑧に当てはまる文字を順に読むと「ふるさとのうぜい」となります。

よって答えは「ふるさとのうぜい」です。