

名前 _____

お金がいくらあるか 数字で 答えましょう。

①



万	千	百	+	-

円


②



万	千	百	+	-

円

③



万	千	百	+	-

円

④



万	千	百	+	-

円

⑤



万	千	百	+	-

円

名前 _____

お金がいくらあるか 数字で 教えてください。

①



万	千	百	+	-

円

②



万	千	百	+	-

円

③



万	千	百	+	-

円

④



万	千	百	+	-

円

⑤




万	千	百	+	-

円

名前 _____

お金がいくらあるか 数字で 答えましょう。

①




円

②



円

③




円

④



円

⑤



円

名前 _____

お金がいくらあるか 数字で 教えてください。

①



万	千	百	+	-

 円

②



万	千	百	+	-

 円


③



万	千	百	+	-

 円


④



万	千	百	+	-

 円

⑤



万	千	百	+	-

 円

名前 _____

お金がいくらあるか 数字で 答えましょう。

①



円

②



円

③



円

④



円

⑤



円

名前 _____

お金がいくらあるか 数字で 教えてください。

①



円

②




円

③



円

④



円

⑤



円

お金がいくらあるか 数字で 教えてください。



を 3 つ、



を 4 つ、



を 6 つ、



を 2 つ、



を 5 つ あわせたかず

万	千	百	+	-

円

②



を 7 つ、



を 3 つ、



を 8 つ、



を 5 つ、



を 9 つ あわせたかず

万	千	百	+	-

円

③



を 4 つ、



を 2 つ、



を 1 つ、



を 5 つ、



を 7 つ あわせたかず

万	千	百	+	-

円

④



を 9 つ、



を 7 つ、



を 3 つ、



を 4 つ、



を 8 つ あわせたかず

万	千	百	+	-

円

⑤



を 5 つ、



を 2 つ、



を 6 つ、



を 6 つ、



を 4 つ あわせたかず

万	千	百	+	-

円

お金がいくらあるか 数字で 答えましょう。



を 3 つ、



を 2 つ、



は なし、



を 2 つ、



を 7 つ あわせたかず

万	千	百	+	-

円

②



を 9 つ、



は なし、



を 9 つ、



を 3 つ、



を 2 つ あわせたかず

万	千	百	+	-

円

③



を 5 つ、



を 9 つ、



を 3 つ、



は なし、



を 1 つ あわせたかず

万	千	百	+	-

円

④



を 7 つ、



を 6 つ、



を 5 つ、



を 4 つ、



を 1 つ あわせたかず

万	千	百	+	-

円

⑤



を 9 つ、



を 9 つ、



を 9 つ、



を 9 つ、



を 9 つ あわせたかず

万	千	百	+	-

円